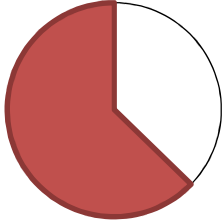



## Bruchteile, Anteile - Übung

### 1. Welcher Anteil der jeweiligen Figur ist gefärbt?


a)



b)



c)



d)



### 2. Berechne folgende Bruchteile:

a)  $\frac{4}{5}$  von 60cm

b) 40% von 3kg

c)  $\frac{1}{3}$  von 1h

d)  $\frac{5}{6}$  von 1min

e)  $\frac{7}{8}$  von 2km

f) 20% von 80€

### 3. Welcher Anteil ist das?

a) 36m von 48m

b) 12min von 1h

c) 375g von 1kg

d) 2,50€ von 7,50€

e) 3dm von 1m

f) 25m<sup>2</sup> von 1a

### 4. Rechne um:

a)  $\frac{1}{4}$  ha in a

b)  $\frac{11}{20}$  h in min

c)  $\frac{7}{25}$  € in ct

d)  $\frac{13}{125}$  m in mm

e)  $\frac{23}{50}$  t in kg

f)  $\frac{7}{120}$  h in s

### 5. Färbe folgenden Anteil

a)  $\frac{7}{12}$  von einem Kreis

b)  $\frac{3}{8}$  von einem Quadrat

c)  $\frac{1}{2}$  von einem Dreieck

d)  $\frac{12}{60}$  von einem Kreis